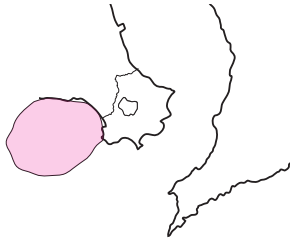


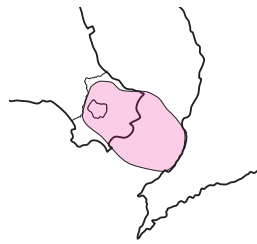
令和6年度 いぶすき検定 初級問題

～指宿の歴史～

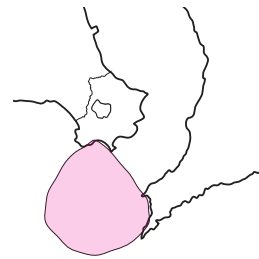
1. 火山学者の松本唯一氏によれば、指宿市域の大半が、約10万5千年前から11万年前に噴火した阿多カルデラの中に含まれているという。阿多カルデラの範囲を示したもので正しいものは次のうちどれか。



①



②



③

2. 作家椋鳩十が「屏風岩」と呼んだ火山地形の()。金鉱床が存在し、明治から戦前まで、大谷鉱山をはじめ多くの鉱山が開発された。()に入る言葉で正しいものは次のうちどれか。

- ① 鍋島岳
- ② 鬼門平
- ③ 清見岳



3. 潮が引いた際に現れる、知林ヶ島と田良岬を結ぶ砂州の長さとして正しいものは次のうちどれか。

- ① 約500メートル
- ② 約800メートル
- ③ 約1200メートル



4. ハワイのダイヤモンドヘッドに似ていることから「東洋のハワイ」としての指宿のイメージ作り
 に一役買い、天狗伝説が残っていることでも知られる火山地形は次のうちどれか。



①竹山



②魚見岳



③開聞岳

5. 淡黄色が特徴的な「山川石」に関する記述のうち、間違っているものは次のうちどれか。

- ① 池田湖が噴火した際に積もった火砕流堆積物が固まってできた。
 ② 見た目が美しく加工しやすいため石垣や墓石として用いられ、遠くは京都まで運ばれた。
 ③ 山川の福元とその周辺でしか採れない、極めてローカルな岩石である。



6. 波打ち際から温泉が湧き出る伏目海岸。ここにはある火山から噴出した火砕流堆積物が厚く堆積した白い崖があるが、火砕流を噴出した火山は次のうちどれか。

- ① 開聞岳
 ② 鰻池
 ③ 池田湖



7. 美しい円錐形から「薩摩富士」とも呼ばれる開聞岳。(A) の噴火で現在の姿になった。開聞岳がかつて激しく噴火していたことは昔話にもみられ、金峰山や(B) とけんかした話が伝わっている。また、開聞岳は(C) の神様としても信仰されていた。() に入る組み合わせで正しいものは次のうちどれか。

- | | | |
|-----------|-------|------|
| ① A…旧石器時代 | B…屋久島 | C…火山 |
| ② A…縄文時代 | B…硫黄島 | C…海 |
| ③ A…弥生時代 | B…竹島 | C…太陽 |



8. 鰻地区にある火山性の天然蒸気カマドは、地元で() と呼ばれている。() に入る言葉として正しいものは次のうちどれか。

- ① シメ
② ユメ
③ スメ



9. 中世のころから天然の良港として栄えた山川湾。湾曲した入り江は(A) によって外海と区切られており、湾内へ波が入りにくいため海面はいつも穏やかである。また、上空から見た形から(B) の港とも呼ばれる。() に入る組み合わせで正しいものは次のうちどれか。

- | | |
|---------|-----|
| ① A…砂嘴 | B…鶴 |
| ② A…砂州 | B…蝶 |
| ③ A…火口壁 | B…亀 |




10. (A)は、明治7年に従者と猟犬を連れ鰻温泉に突然泊まりに来た。滞在期間は1ヶ月ほどで、滞在中に (B)に敗れた江藤新平が訪問した。(A)は鰻温泉を出発する際、宿の主人に自分の (C)をプレゼントした。()に入る組み合わせで正しいものは次のうちどれか。


- | | | |
|-----------|--------|-------|
| ① A…西郷隆盛 | B…佐賀の乱 | C…シャツ |
| ② A…西郷隆盛 | B…秋月の乱 | C…猟銃 |
| ③ A…大久保利通 | B…佐賀の乱 | C…軍刀 |



11. 「幸せを呼ぶ蝶」といわれる ()は指宿市の市のチョウにもなっており、九州南端はこのチョウの分布の北限にあたる。()に入る言葉として正しいものは次のうちどれか。



① ツマベニチョウ



② モンシロチョウ



③ アゲハチョウ

12. 指宿市の「市の魚」になっているものは、次のうちどれか。

- ① カンパチ
- ② カツオ
- ③ キビナゴ



～指宿の歴史～

13. 今年、国指定史跡に指定されてから100年を迎える指宿橋牟礼川遺跡。大正時代の発掘により明らかになった重要な発見のうち、間違っているものは次のうちどれか。

- ① 日本で初めて縄文土器が弥生土器より古いことが証明された。
- ② 『日本三代実録』に記された874年の開聞岳噴火によって埋没した村が発見された。
- ③ 開聞岳の火山灰で埋もれた国内最南端の古墳(円墳)が発見された。



14. 昭和32年に発見された成川遺跡に関する説明として正しいものは次のうちどれか。

- ① 弥生時代から古墳時代にかけての集団墓地が発見された。
- ② 日本最古の建物を描いた土器片が発見された。
- ③ 中世の山城に住んだ領主の屋敷跡が発見された。



15. 占いの道具とされる「鉄製甲臺」などが発見され、橋牟礼川遺跡とともに平安時代の役所・揖宿郡衙の候補地とされている遺跡は次のうちどれか。

- ① 南丹波遺跡
- ② 水迫遺跡
- ③ 敷領遺跡



16. 光明禅寺に残された板碑からは、16世紀の指宿が（ ）と表記されていたことがわかる。
 （ ）に入る言葉で正しいものは次のうちどれか。

- ① 湯豊宿
- ② 湯香宿
- ③ 湯美宿

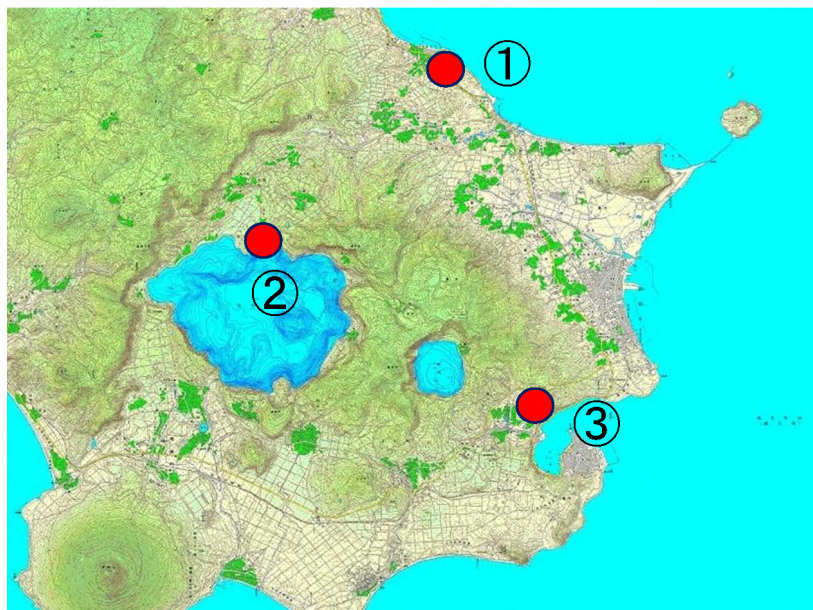


17. 天文15年(1546)に山川を訪れたポルトガル商人が執筆した初の本格的な日本滞在記『日本報告』。この人物は次のうちどれか。

- ① パウロ・エンリケ
- ② カルロス・アウグスト
- ③ ジョルジェ・アルバレス



18. 鎌倉時代に指宿氏の居城となって以来、江戸時代初期まで政治の中心となった山城「松尾城」があった場所は次のうちどこか。



19. 枚聞神社には、通称「玉手箱」と呼ばれる室町時代の（ ）があり、観光特急「指宿のたまて箱」の名前の由来にもなっている。（ ）に入る言葉として正しいものは次のうちどれか。

- ① 化粧箱
- ② 千両箱
- ③ 土産箱



20. 「刻み地蔵」は、池田湖の畔にある洞窟に彫られている。応永27年(1420)、知覧の佐多伯耆守親久が（ A ）に攻め入った際、「城主の（ B ）は夫人や姫らを逃がしたが、城は落城。夫人らは戦死した一族の冥福を祈るため仏像を彫り、完成と共に餓死した」という伝説があることから、（ C ）御前とも呼ばれている。（ ）に入る組み合わせで正しいものは次のうちどれか。

- | | | |
|---------|---------|------|
| ① A…松尾城 | B…池田信濃守 | C…巴 |
| ② A…清見城 | B…池田信濃守 | C…餓死 |
| ③ A…清見城 | B…指宿秀忠 | C…餓死 |



21. 宝永2年(1705)、当時の琉球からサツマイモを持ち帰り、民間人として初めてその普及に努めた人物は次のうちどれか。

- ① 青木昆陽
- ② 前田利右衛門
- ③ 前田勘助



22. 江戸時代に薩摩藩の南方貿易に貢献した山川の豪商である河野家の墓として正しい写真は次のうちどれか。



①



②



③

23. 幕末、海運業を中心に薩摩藩の財政改革に貢献した指宿出身の人物は次のうち誰か。

- ① 第5代 湊 太左衛門
- ② 第8代 濱崎 太平次
- ③ 調所 笑左衛門 広郷



24. 宮ヶ浜にある国の登録有形文化財にもなっている、江戸時代に造られた防波堤の名前は次のうちのどれか。

- ① 捍海隄
- ② 石積隄
- ③ 宮ヶ浜隄



25. 国指定史跡に指定されている今和泉島津家墓所の説明として正しいものは次のうちどれか。

- ① 篤姫のお墓がある。
- ② 墓所入口には今和泉島津家伝来の手水鉢がある。
- ③ 今和泉島津家初代忠郷のお墓がある。



26. 近世の山川港は国際貿易において重要な役割を果たしていた。京都五山の虎森和尚によって開山された寺で、明との外交文書の授受に当たっていたのは次のうちどれか。

- ① 長勝院
- ② 正龍寺
- ③ 瑞応院



27. 島津氏は山川・佐多・吉野の3ヶ所に薬草園を設け薬用植物の栽培に努めた。『斉彬公史料』によると薬草園で作られた（ ）の実を蜂蜜漬けにして大奥の篤姫のもとに送ったことが記されている。（ ）に入る語で正しいものは次のうちどれか。

- ① リュウガン
- ② ヤマモモ
- ③ イチジク



28. 第二次世界大戦中、本土決戦に備えてモーターボート型特攻兵器「震洋」が配置されたのは、次のうちどこか。

- ① 田良と長崎鼻
- ② 宮ヶ浜と花瀬海岸
- ③ 指宿港と脇浦海岸



～指宿の文化～

29. 下の写真の郷土芸能の名前は次のうちのどれか。

- ① ごちよう踊
- ② 唐人踊
- ③ チョイノチョイ



30. 昔、天然痘が流行してたくさんの犠牲者が出たとき、再び起こらぬようと神に祈った踊りが疱瘡踊りとして今も伝えられている。次のうち疱瘡踊りはどれか。

- ① 開聞の古琴節
- ② 宮坂田踊
- ③ 高野原のさまふり



31. かつて琉球王国が薩摩藩に支配されていた時代、使節団が薩摩に向け琉球に出発し、山川港に入校するまでの旅の様を描いた「上り口説（ぬぶいくどうち）」が源流と考えられている、下の写真の郷土芸能の名前は次のうちどれか。

- ① 琉球傘踊
- ② 南方神社の神舞
- ③ 田之畑棒踊り



32. 鰻地区には、正月にお参りすると故人に会えると伝えられる（ ）という伝統行事が残っている。

- ① ウナツメイ
- ② ウナツサイ
- ③ ウナツドン



33. 利永に伝わる子宝を願う伝統行事は次のうちのどれか。

- ① ダセチツ
- ② カニハワセ
- ③ カンメ



34. やまがわ としなが がつ おこな かお なべがま ぬ ねんむびょうそくさい す
 山川の利永で1月に行われ、顔にヘグロ（鍋釜のすず）を塗られると1年無病息災で過ごせると
 いう伝統行事は次のうちどれか。

- ① イシナト
- ② メンドン
- ③ トツノモツツイ



35. やまがわ はまちよがみず のこ しょうがつぎょうじ つぎ しゃしん
 山川の浜見ヶ水に残る正月行事「サンコンメ」は次の写真のうちどれか。



①



②



③

36. けん でんとうこうげいひん してい いぶすき ふる おんな こ たんじょう さい
 県の伝統工芸品にも指定されている（ ）。指宿には古くから女の子が誕生した際につげの
 き う けっこん とき はなよめどうぐ ひと も ふうしゅう
 木を植え、結婚する時に花嫁道具の一つとしてこれを持たせる風習があった。

- ① さつま ぐし 薩摩つげ櫛
- ② さつま かんざし 薩摩つげ簪
- ③ さつま はし 薩摩つげ箸



37. 岩本消防分団車庫の前に碑がたてられている、生まれつき話すことができないながらも大変親孝行な人物として今和泉島津家の殿様がほめたたえ、お金と米を送ったと伝えられる人物は、次のうち誰か。

- ① 孝子佐左衛門
- ② 孝女袈裟子
- ③ 孝女瑞照姫



～指宿の産業・経済～

38. 江戸時代からすでに「山川のスイカはうまい」と評判だったスイカの名前は、次のうちどれか。

- ① 大成スイカ
- ② 慈光スイカ
- ③ 徳光スイカ



39. 温たまらん井と同時に開発されたこれらのスイーツは指宿市の特産物を使って作られているが、それは次のうちどれか。

- ① 実えんどう
- ② カツオ節
- ③ そら豆



40. 生産量日本一を誇る指宿のオクラ。収穫時期には休みが無いほどであるが、かつては市場が閉鎖されるお盆の時期になるとオクラの行き場がなかった。これを活用して昭和49年(1974)に商品化されたのは、次のうちどれか。

- ① オクラパック
- ② オクラパウダー
- ③ オクラ漬



41. 鹿児島県は養殖カンパチの生産量日本一。山川湾で養殖されているカンパチのブランド名は次のうちどれか。

- ① いぶすき菜の花カンパチ
- ② いぶすきそら豆カンパチ
- ③ いぶすきおくらカンパチ



42. 「指宿温泉サイダー」に関する説明のうち、間違っているものは次のうちどれか。

- ① ラベルは、アロハとムームーで踊るカップル。その向こうには開聞岳と池田湖、イッシーに菜の花である。
- ② 水は「平成の名水百選」に選ばれた唐船峡京田湧水が使われている。
- ③ 王冠には、指宿市の蝶のツマベニチョウが描かれている。



43. 現在、指宿市内には6社の酒造会社があり、68銘柄以上の芋焼酎が造られている。平成29年には6社が同じ麹菌（ ）菌を使用して開発した新焼酎「指宿（ ）」がセット販売され、多くの焼酎ファンを喜ばせた。（ ）に共通して入るのは次のうちどれか。

- ① ワンダフル
- ② エクセレント
- ③ ブリリアント



44. かつて指宿で盛んだった製塩業。大正11年に開始されて以来、昭和30年代前半までは（ ）が利用されていた。（ ）に入る語で正しいものは次のうちどれか。

- ① 温泉の熱
- ② 池田湖の水
- ③ 開聞岳の火山灰



45. 平成30年4月において、市内の泉源数は（ A ）か所あり、泉質はほとんどが（ B ）である。（ ）に入る組み合わせで正しいものは次のうちどれか。

- ① A…842 B…アルカリ性単純温泉
- ② A…1067 B…ナトリウム塩化物泉
- ③ A…1067 B…アルカリ性単純温泉



46. 砂むし温泉に関する説明のうち、正しいものは次のうちどれか。

- ① 砂むし温泉の最古の記録は、幕末の『前田勘助日記』に記されている。
- ② 摺ヶ浜の西側の山に泉源がいくつもあり、この山からの熱水が海岸に流下し、海水との境界に沿って湧き上がっている。
- ③ 砂むし温泉の恵みに感謝し、毎年「摺ヶ浜砂むし祭り」が行われる。



47. 唐船峡の名物として知られる「そうめん流し」は、旧開聞町の井上廣則が水圧を利用して開発された「(A) そうめん流し器」が使われている。唐船峡には、池田湖の伏流水とされる (B) があり、平成 20 年度には「平成の名水百選」に認定された。() に入る組み合わせで正しいものは次のうちどれか。

- | | |
|---------|--------|
| ① A…回転式 | B…唐船湧水 |
| ② A…水圧式 | B…京田湧水 |
| ③ A…回転式 | B…京田湧水 |



48. かつお節の町を彩る恒例行事で、昭和 9 年 (1934) に第 1 回が開催された祭りの名前は次のうちどれか。

- ① 山川かつお祭り
- ② 山川みなと祭り
- ③ 山川温泉祭り



49. 令和5年1月で40回目を迎えた「いぶすき菜の花マラソン」。昭和56年の第1回大会は()
 という名称で、フルマラソンと10キロ部門を合わせて参加者は306名であった。()に入る
 言葉として正しいものは次のうちどれか。

- ① 指宿アロハママラソン
- ② 指宿温泉マラソン
- ③ 指宿イッシーマラソン



50. 観光特急「指宿のたまて箱」の記述として間違っているものは、次のうちどれか。

- ① その車体の左右の色は曜日によって入れ替わる。
- ② 名前は竜宮伝説や枚聞神社の通称「玉手箱」と呼ばれる室町時代の化粧箱などにちなんで付けられた。
- ③ 白と黒のツートンカラーは、玉手箱を開けた浦島太郎の髪が黒から白になった物語をイメージしている。

